




1 9. Сколько стран насчитывается в мире? Запиши ответ в виде числа

210

10. Найди правильную пару между названием формы земной поверхности и картинкой

1. Равнина  
2. Горы

3. Овраг  
4. Вулкан



11. Какой объект изображен таким значком на плане местности:



- А. Здание  
Б. Родник

- В. Водоем  
Г. Церковь

0 12. Напишите название главной реки Красноярского края:

Волга

1 13. Сколько планет входит в состав Солнечной системы:

- А. 6  
Б. 7

- В. 8  
Г. 10

0 14. Где расположены города - Тобольск, Новосибирск, Красноярск, Томск?

- А. Дальний Восток  
Б. На Волге  
В. Сибирь  
Г. На Урале

0 15. Где расположен объект Всемирного наследия – озеро Байкал?

- А. Красноярский край  
Б. Республика Хакасия  
В. Республика Тува  
Г. Иркутская область